


Skala (I)


1 Mät i hela centimeter. Hur långa är föremålen i verkligheten.



Skala 2 : 1



Skala 1 : 5




2 Mät i hela och halva centimeter. Vilken är längden i verkligheten.



Skala 4 : 1



Skala 1 : 12



3 Masha målar en häst på ett A4-papper. Hon säger att den är avbildad i skala 1 : 25. Anton säger att den är avbildad i skala 25 : 1. Vem har rätt? Motivera ditt svar.

Skala (I)

FACIT

- 1 a) 3 cm
b) 2,5 cm
- 2 a) 2 cm
b) 48 cm
- 3 Masha har rätt. Om bilden ska få plats på A4-papperet måste det vara en förminskning. Skala 1 : 25 betyder att 1 cm på bilden motsvarar 25 cm i verkligheten.